


	Предмет	Задание	Обратная связь с учителем
1	Физ-ра	Тема урока: Приём мяча сверху, снизу, двумя руками с падением – перекатом на спину. Посмотреть видео урок по ссылке https://resh.edu.ru/subject/lesson/4962/start/80117/	tolicbez@mail.ru
2	История	Тема урока: Повседневна жизнь советского общества в 1964-1985гг. просмотреть презентацию, сделать рабочий лист в тетради.	

Фамилия, имя _____
 Класс _____ Дата _____


ИСТОРИЯ РОССИИ
 1945 год - начало XXI века

ПОВСЕДНЕВНАЯ ЖИЗНЬ СОВЕТСКОГО ОБЩЕСТВА В 1964-1985 гг.

1 Запиши примеры (не менее трёх), которые показали бы изменения в повседневной жизни советских людей в 1964-1985 гг. ?



2 Разгадай ребус. Дай определение получившемуся у тебя термину. Объясни причины этого явления. ?



❌ ФИЦ

Термин: _____

Определение: _____

Причины явления: _____


Дефицит может возникнуть из-за неправильного управления ресурсами или недостаточной эффективности их использования. Например, если государственные органы не эффективно расходуют бюджетные средства или компании не управляют своими ресурсами оптимальным образом, это может привести к дефициту. Кроме того, экономические и политические факторы также могут способствовать появлению дефицита. Например, экономический спад или нестабильность в стране может привести к сокращению доходов, увеличению безработицы и ухудшению финансовой ситуации, что в свою очередь может вызвать дефицит.

1

Фамилия, имя _____
Класс _____ Дата _____

3

Что это за устройство? Для чего оно предназначался? В случае затруднения поинтересуйся у своих родителей.



Ответ: _____

4

Отметь ТРИ верных, на твой взгляд, суждения о рисунках.



А) Рисунки содержат информацию о развитии промышленного производства в стране.

Б) В 1970-х годах массовое предоставление участков изображенных на рисунке стало рассматриваться в СССР как доступный и быстрый способ повышения благосостояния горожан, а также обеспечения проведения досуга в доступной для всех форме.

В) За получение участка необходимо было заплатить государству 50% от его стоимости.

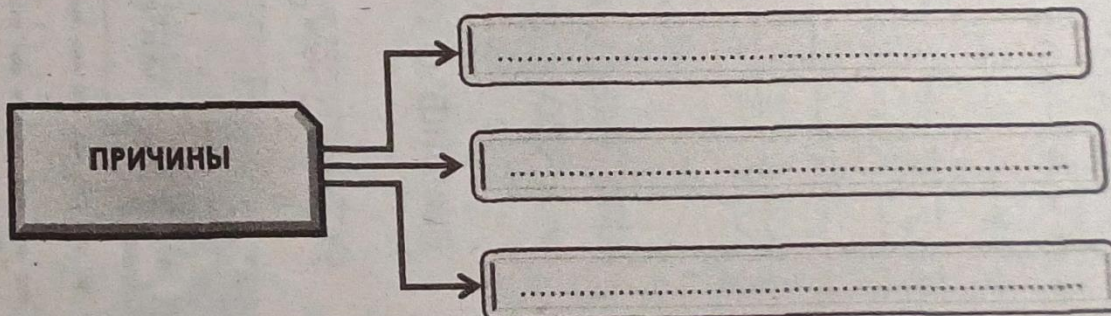
Г) Площадь земельного участка, предоставляемого гражданам СССР, составляла 6-15 соток.

Д) В настоящее время количество изображенных на рисунках участков в России значительно сократилось по сравнению с советским периодом.

Ответ: _____

5

Заполни недостающие сведения в блок-схему «Причины изменения общественных отношений в 1964-1985 гг.»



2

Фамилия, имя _____
Класс _____ Дата _____

6

Каким образом гражданин СССР мог получить право на покупку особо дефицитной книги? Нарисуй плакат, призывающий к действиям, направленным для получения такого права.



7

Запиши слово (словосочетание) являющееся обобщённым для всех указанных ниже.



недвижимость, автомобильные шины, мебель, бытовая техника, автомобиль, компьютер, одежда, обувь, отдых, путешествия

Ответ: _____

8

Посмотри один из рекомендованных фильмов и напиши на него рецензию в соответствии с планом.



Список фильмов: «Я шагаю по Москве», «Белорусский вокзал», «Джентльмены удачи», «Большая перемена», «Экипаж», «Любовь и голуби».

Вступительная часть отзыва должна содержать важную информацию о фильме: название, режиссер, дата выхода, жанр.

В отзыв включи: описание самых ярких, запомнившихся тебе эпизодов и объясни свой выбор, выскажи своё мнение по поводу проблем, которых поднимает режиссер-постановщик в фильме, их актуальность и значение; мнение об игре актёров.

Ответ: _____
